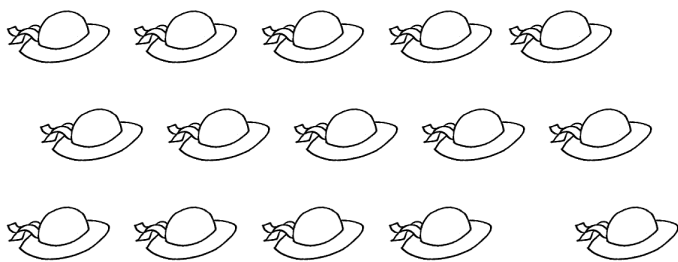


## Le figure sono in numero pari o dispari ?




Quanti cappellini sono? .....

Quanti gruppetti da due puoi fare? .....

Ne rimangono alcuni fuori dai gruppetti, quanti? .....

I cappellini sono pari o dispari? .....




Quanti coniglietti sono? .....

Quanti gruppetti da due puoi fare? .....

Ne rimangono alcuni fuori dai gruppetti, quanti? .....

I coniglietti sono pari o dispari? .....




Quante farfalle sono? .....

Quanti gruppetti da due puoi fare? .....

Ne rimangono alcuni fuori dai gruppetti, quanti? .....

Le farfalle sono pari o dispari? .....



Quanti fiori sono? .....

Quanti gruppetti da due puoi fare? .....

Ne rimangono alcuni fuori dai gruppetti, quanti? .....

I fiori sono pari o dispari? .....