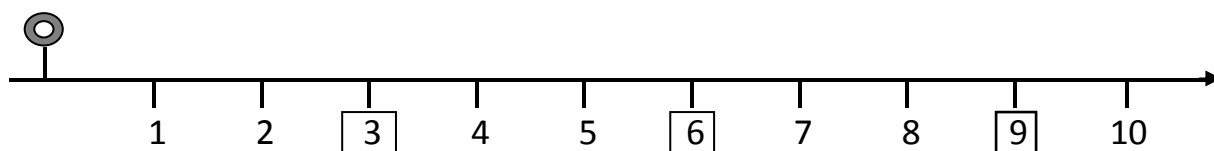
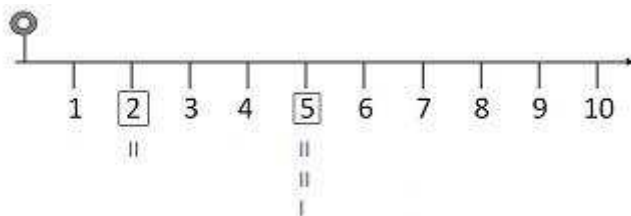


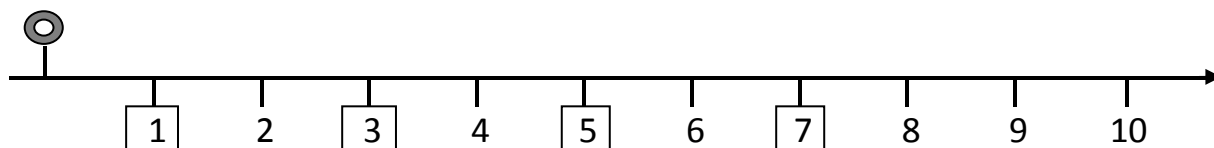
RAPPRESENTA CON LE CANNUCCE, COME NELL'ESEMPIO, IL NUMERO SULLA LINEA EVIDENZIATO NEL QUADRATINO E RISPONDI ALLE DOMANDE

ESEMPIO



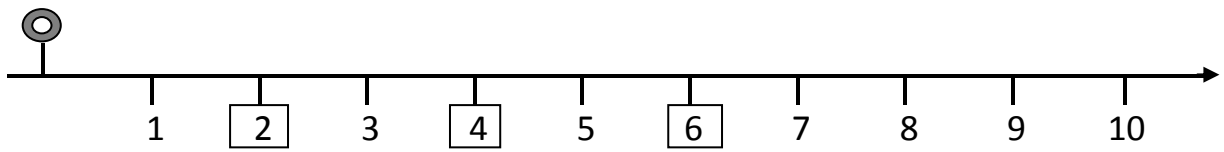
Quali numeri sono rappresentati da coppie di cannuce?

Quali numeri sono rappresentati da coppie di cannuce più una cannuccia?



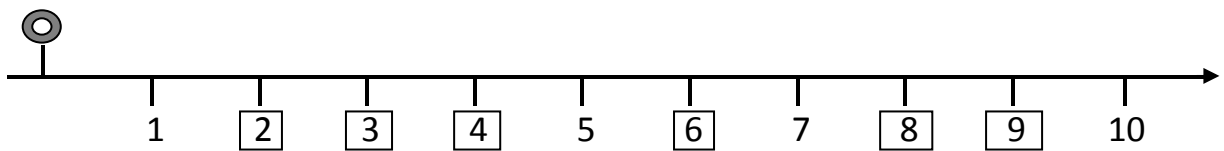
Quali numeri sono rappresentati da coppie di cannuce?

Quali numeri sono rappresentati da coppie di cannuce più una cannuccia?



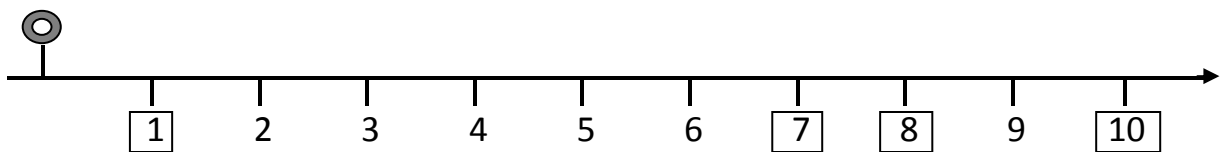
Quali numeri sono rappresentati da coppie di cannuce?

Quali numeri sono rappresentati da coppie di cannuce più una cannuccia?



Quali numeri sono rappresentati da coppie di cannuce?

Quali numeri sono rappresentati da coppie di cannuce più una cannuccia?



Quali numeri sono rappresentati da coppie di cannuce?

Quali numeri sono rappresentati da coppie di cannuce più una cannuccia?
