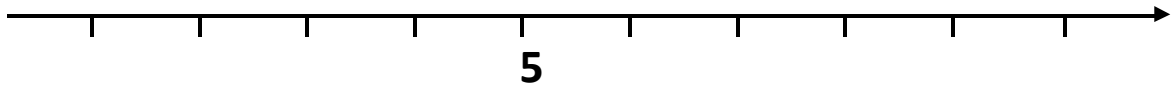
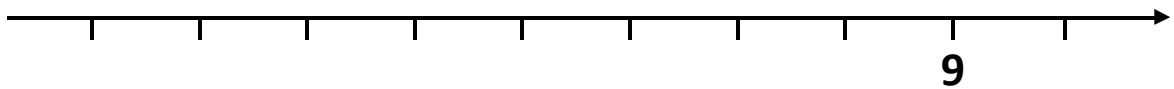
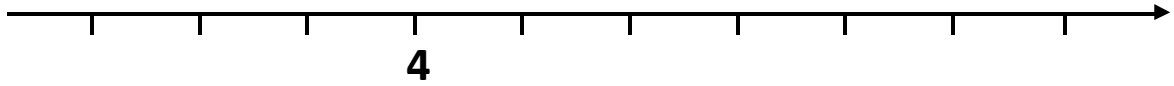
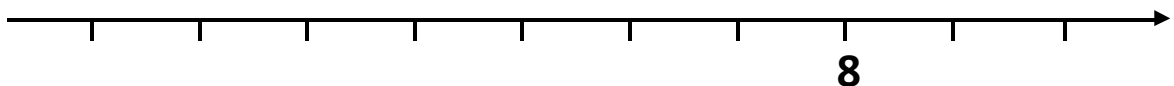
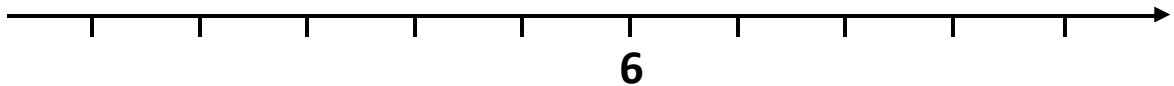
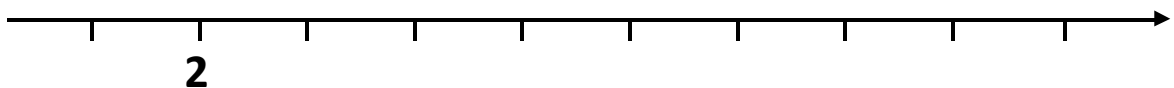


USA LA TUA LINEA DEI NUMERI PERSONALE

SCRIVI I NUMERI, CHE CONOSCI, MAGGIORI DI ...

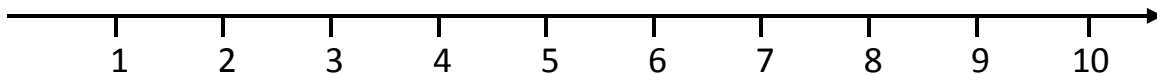


SCRIVI I NUMERI MINORI DI ...

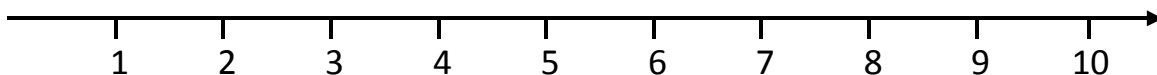


COLORA LA PARTE DI LINEA CHE CONTIENE I NUMERI ...

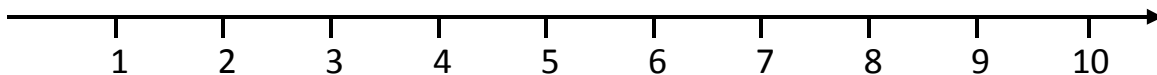
Minori di 4



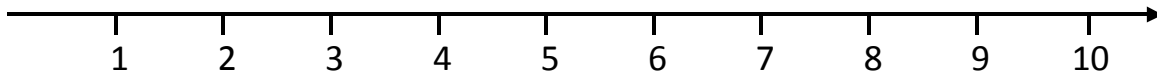
Minori di 7



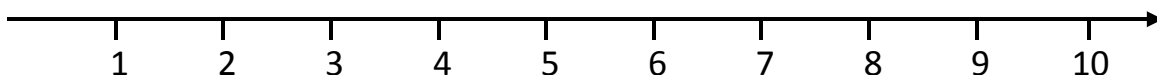
Maggiori di 8



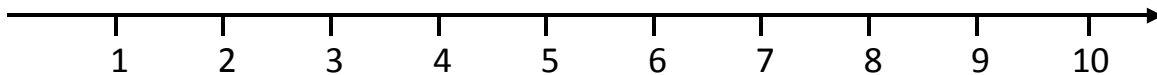
Maggiori di 6



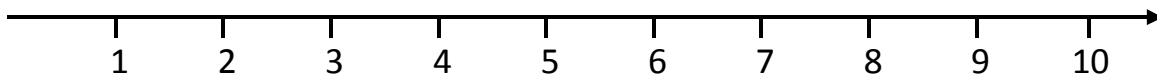
Minori di 9



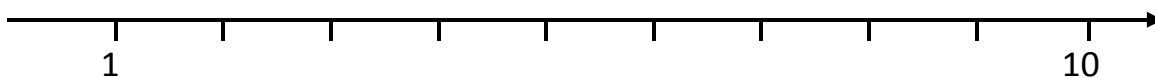
Maggiori di 5



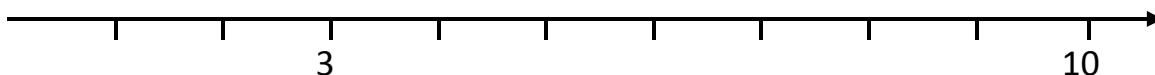
Minori di 6



DOV'È IL NUMERO 7 ?



COMPLETA LA LINEA DEI NUMERI



SCRIVI I NUMERI PRECEDENTI (CHE VENGONO PRIMA) E I NUMERI SUCCESSIVI (CHE VENGONO DOPO)

SCRIVI IL NUMERO PRECEDENTE

	9
	5
	2
	8
	6

	3
	10
	7
	4

SCRIVI IL NUMERO SUCCESSIVO

2	
7	
4	
1	
9	

5	
3	
6	
8	

INSERISCI I NUMERI



PRECEDENTI

E

SUCCESSIVI



						6
						8
						10
						5
						9

2						
3						
4						
1						
5						


GIOCHIAMO CON I MOSTRICIATTOLI

Nel mare Arcobaleno ci sono tanti mostriciattoli marini che hanno dei tentacoli al posto delle braccia e delle gambe. Impariamo i loro nomi:


MEO




TOLLO



RUGO




POLDO



SPILLO



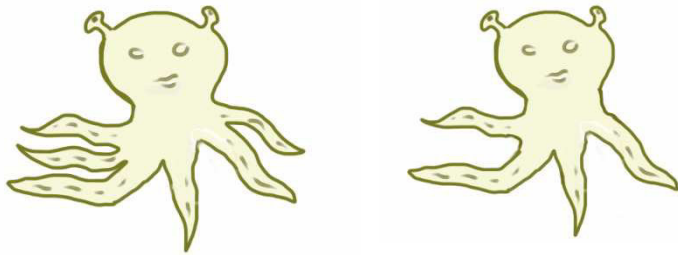
COCCO



Scrivi nel quadratino a fianco del nome, il numero dei tentacoli di ciascun mostriciattolo.

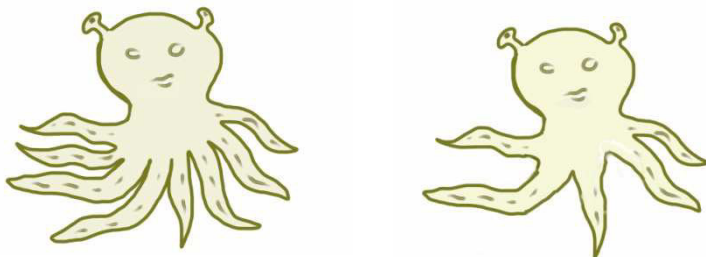
Colora in VERDE il quadratino del mostriciattolo che ha meno tentacoli di tutti e in ROSSO quelli che ne hanno di più.

RUGO e TOLLO si mettono vicini:



Quanti tentacoli hanno in tutto i due mostriciattoli?

Ora si mettono in coppia anche SPILLO e COCCO:




Quanti tentacoli hanno in tutto i due mostriciattoli?

Confronta le due coppie di mostriciattoli.

Quale coppia ha più tentacoli?

Spiega perché

Infine, ecco MEO e POLDO:



Fra tutte le coppie di mostriciattoli rappresentate nella pagina, quale coppia ha più tentacoli e quale di meno?

La coppia che ha più tentacoli è:

La coppia che ha il minor numero di tentacoli è:

Due mostriciattoli, insieme hanno 15 tentacoli. Come si chiamano i due mostriciattoli?

Due mostriciattoli insieme hanno il numero minore di tentacoli. Quali sono?
Scrivi i nomi e spiega come hai fatto a scoprirli.

Tre mostriciattoli insieme hanno il **minor** numero di tentacoli. Quali mostriciattoli sono?

Scrivi i nomi e spiega come hai fatto a scoprirli.

Tre mostriciattoli insieme hanno il **maggior** numero di tentacoli. Quali mostriciattoli sono?

Scrivi i nomi e spiega come hai fatto a scoprirli.