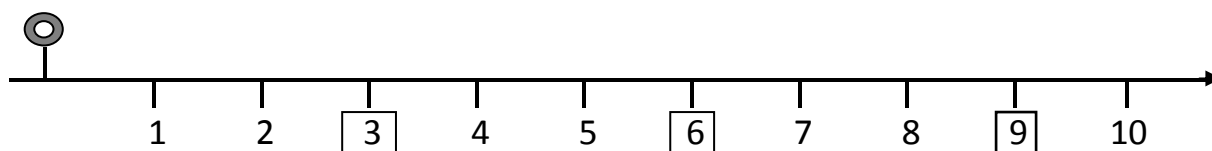
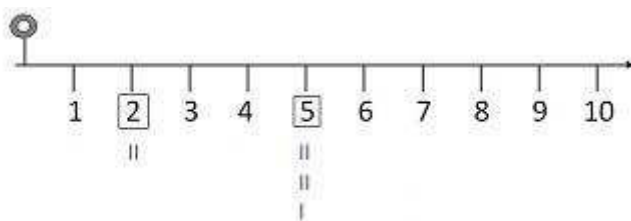


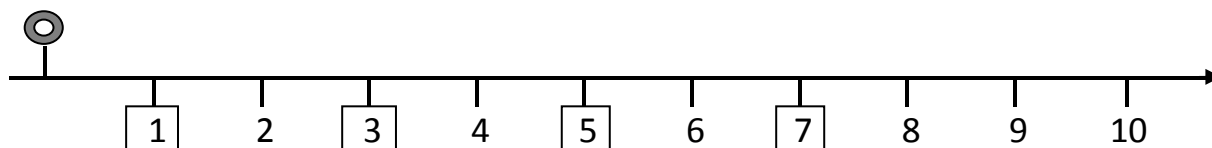
RAPPRESENTA CON LE CANNUCCE, COME NELL'ESEMPIO, IL NUMERO SULLA LINEA EVIDENZIATO NEL QUADRATINO E RISPONDI ALLE DOMANDE

ESEMPIO



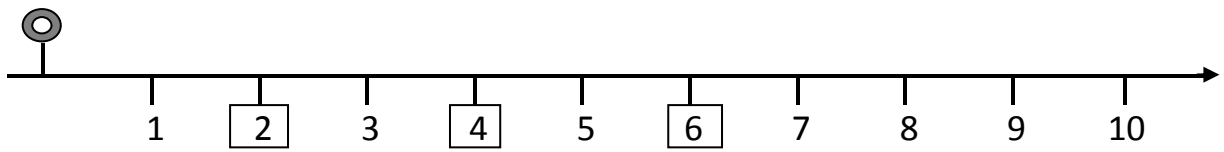
Quali numeri sono rappresentati da coppie di cannuce?
Quali numeri sono rappresentati da coppie di cannuce più una cannuccia?

.....



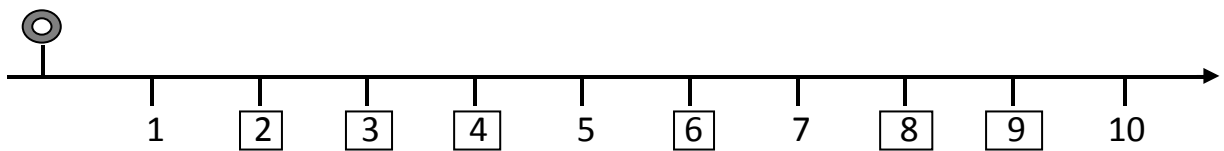
Quali numeri sono rappresentati da coppie di cannuce?
Quali numeri sono rappresentati da coppie di cannuce più una cannuccia?

.....



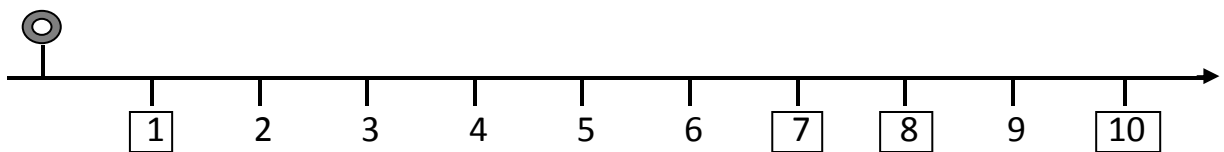
Quali numeri sono rappresentati da coppie di cannuce?
Quali numeri sono rappresentati da coppie di cannuce più una cannuccia?

.....



Quali numeri sono rappresentati da coppie di cannuce?
Quali numeri sono rappresentati da coppie di cannuce più una cannuccia?

.....



Quali numeri sono rappresentati da coppie di cannuce?
Quali numeri sono rappresentati da coppie di cannuce più una cannuccia?

.....

CERCHIA TUTTI I NUMERI **PARI**, CIOÈ I NUMERI CHE POSSONO ESSERE RAPPRESENTATI CON COPPIA O COPPIE DI CANNUCCE

5	3	2	6
4	1	8	10

CERCHIA TUTTI I NUMERI **DISPARI**, CIOÈ I NUMERI CHE POSSONO ESSERE RAPPRESENTATI CON COPPIA O COPPIE DI CANNUCCE PIÙ UNA

7	1	4	8
3	2	9	5

CERCHIA TUTTI I NUMERI **PARI**, CIOÈ I NUMERI CHE POSSONO ESSERE RAPPRESENTATI CON COPPIA O COPPIE DI CANNUCCE

11 **9** **14** **16** **7**

5 **2** **18** **10** **12**



CERCHIA TUTTI I NUMERI **DISPARI**, CIOÈ I NUMERI CHE POSSONO ESSERE RAPPRESENTATI CON COPPIA O COPPIE DI CANNUCCE PIÙ UNA

17 **6** **15** **3** **20**

13 **16** **9** **19** **4**

**SEGNA CON UNA X I NUMERI PARI E POI
SCRIVI I NUMERI PARI IN ORDINE CRESCENTE (dal più piccolo al più grande)**

14	2	17	1	6	7	16	20	13	3
----	---	----	---	---	---	----	----	----	---

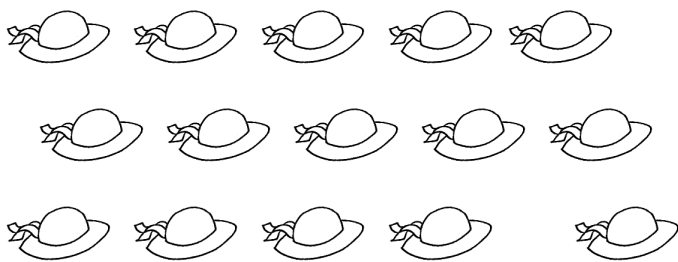
12	8	19	11	4	18	10	5	15	9
----	---	----	----	---	----	----	---	----	---

**SEGNA CON UNA X I NUMERI DISPARI E POI
SCRIVI I NUMERI DISPARI IN ORDINE CRESCENTE (dal più piccolo al più grande)**

5	1	11	9	6	14	16	10	13	3
---	---	----	---	---	----	----	----	----	---

18	8	15	12	4	17	20	7	19	2
----	---	----	----	---	----	----	---	----	---

Le figure sono in numero pari o dispari ?




Quanti cappellini sono?

Quanti gruppetti da due puoi fare?

Ne rimangono alcuni fuori dai gruppetti, quanti?

I cappellini sono pari o dispari?




Quanti coniglietti sono?

Quanti gruppetti da due puoi fare?

Ne rimangono alcuni fuori dai gruppetti, quanti?

I coniglietti sono pari o dispari?




Quante farfalle sono?

Quanti gruppetti da due puoi fare?

Ne rimangono alcuni fuori dai gruppetti, quanti?

Le farfalle sono pari o dispari?



Quanti fiori sono?

Quanti gruppetti da due puoi fare?

Ne rimangono alcuni fuori dai gruppetti, quanti?

I fiori sono pari o dispari?