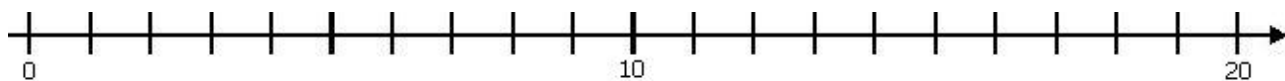
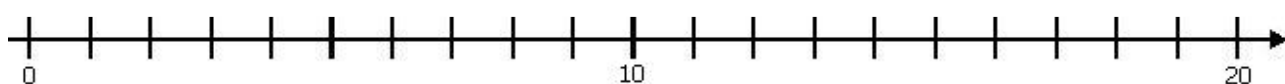


## SCRIVI IL NUMERO NELLA POSIZIONE CORRETTA

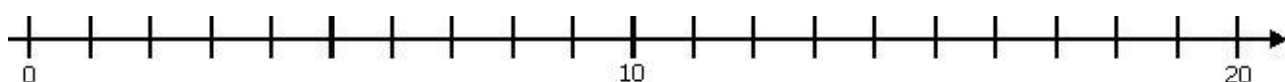
Dov'è il numero **15** ?



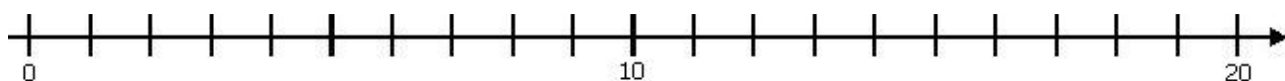
Dov'è il numero **2** ?



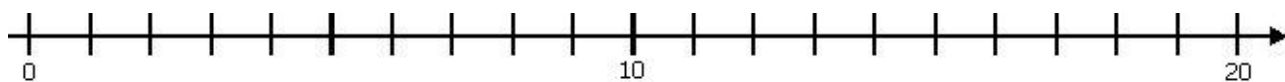
Dov'è il numero **19** ?



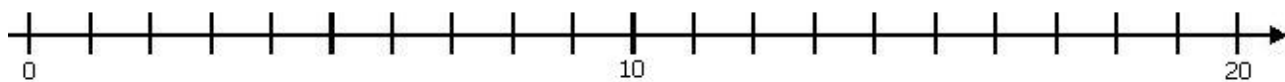
Dov'è il numero **7** ?



Dov'è il numero **13** ?



Dov'è il numero **16** ?

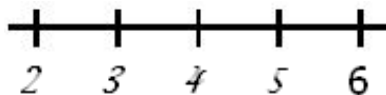


## CONTA ALL'INDIETRO

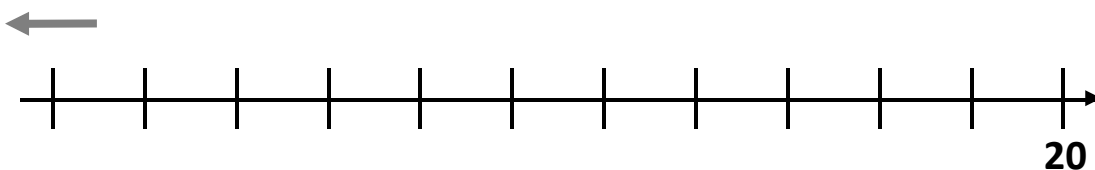
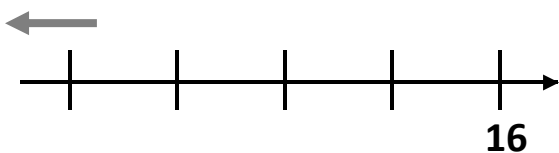
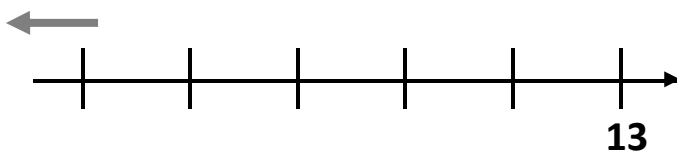
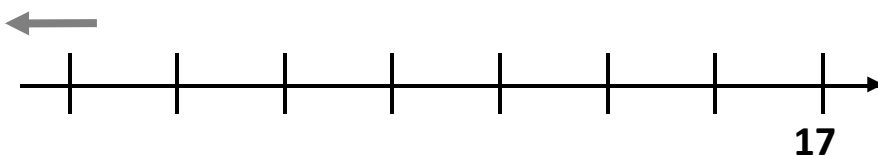
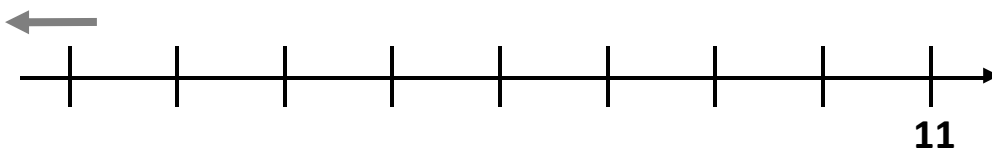


SCRIVI I NUMERI CHE MANCANO SULLA LINEA DEI NUMERI A PARTIRE DAL NUMERO INDICATO

**ESEMPIO:** a partire dal 6 scrivi i numeri che mancano



Ora completa tu....



**COMPLETA CON >, =, <**

$15 \square 15$

$17 \square 12$

$13 \square 19$

$13 \square 13$

$20 \square 16$

$14 \square 17$

$7 \square 17$

$11 \square 15$

$15 \square 4$

$1 \square 9$

$16 \square 19$

$6 \square 3$

$16 \square 18$

$4 \square 12$

$14 \square 7$

$19 \square 18$

$6 \square 6$

$11 \square 12$

$2 \square 8$

$5 \square 5$

$19 \square 16$

$5 \square 8$

$18 \square 17$

$16 \square 10$

**COMPLETA SCRIVENDO UN NUMERO  
MAGGIORE, MINORE, O UGUALE DI...**

$8 > \underline{\quad}$

$6 = \underline{\quad}$

$17 > \underline{\quad}$

$18 < \underline{\quad}$

$15 > \underline{\quad}$

$\underline{\quad} = 14$

$10 < \underline{\quad}$

$\underline{\quad} > 7$

$8 < \underline{\quad}$

$\underline{\quad} > 13$

$20 = \underline{\quad}$

$3 < \underline{\quad}$

$\underline{\quad} < 13$

$12 > \underline{\quad}$

$14 > \underline{\quad}$

## COMPLETA

Completa la tabella inserendo il numero precedente e successivo a quello proposto.

PRECEDENTE	NUMERO	SUCCESSIVO
	17	
	13	
	16	
	19	
	10	
	14	
	11	
	18	
	9	

**Completa con i simboli  $<$ ,  $>$  e  $=$**

15 .... 19      7 .... 16      15 .... 20      10 .... 9

18 .... 11      12 .... 12      19 .... 16      14 .... 18

14 .... 13      19 .... 10      12 .... 14      11 .... 9

**METTI I NUMERI IN ORDINE CRESCENTE:  
DAL PIÙ PICCOLO AL PIÙ GRANDE, COME NELL'ESEMPIO**

*esempio*

**2    7    5    4    →    2    4    5    7**



**8    6    1    3    →    \_    \_    \_    \_**

**2    9    5    7    →    \_    \_    \_    \_**

**3    10    5    8    →    \_    \_    \_    \_**

**8    15    13    11    →    \_    \_    \_    \_**





**16    8    12    6    →    \_    \_    \_    \_**

**14    20    18    10    →    \_    \_    \_    \_**

**5    11    19    13    →    \_    \_    \_    \_**

**METTI I NUMERI IN ORDINE DECRESCENTE:  
DAL PIÙ GRANDE AL PIÙ PICCOLO COME NELL'ESEMPIO**

*esempio*

5	12	10	20	←	 20	 12	 10	 5
---	----	----	----	---	---	---	---	--

-----

2	10	6	8	←	_	_	_	_
---	----	---	---	---	---	---	---	---

0	15	7	14	←	_	_	_	_
---	----	---	----	---	---	---	---	---

13	9	12	5	←	_	_	_	_
----	---	----	---	---	---	---	---	---

17	1	20	16	←	_	_	_	_
----	---	----	----	---	---	---	---	---

11	14	19	4	←	_	_	_	_
----	----	----	---	---	---	---	---	---

16	20	3	18	←	_	_	_	_
----	----	---	----	---	---	---	---	---

15	17	16	18	←	_	_	_	_
----	----	----	----	---	---	---	---	---

## CHI È IL PIÙ PICCOLO ?

Leo ha 3 anni meno di Arianna.

Matteo è il più piccolo.

Maria è la più grande e ha 15 anni.

Viola ha 1 anno più di Arianna.

Sara ha 2 anni più di Viola

Sara ha 5 anni meno di Maria.

### Raccogli le informazioni e completa:

Se Maria ha 15 anni, Sara ha ..... anni.

Se Sara ha ..... anni e ne ha due più di Viola, Viola ha ..... anni.

Se Viola ha ..... anni, Arianna ne ha .....

Se Arianna ha ..... anni, Leo ha ..... anni.

Rispondi:

Chi è il più piccolo? .....




## GIOCHIAMO CON I MOSTRICIATTOLI

Nel mare Arcobaleno ci sono tanti mostriciattoli marini che hanno dei tentacoli al posto delle braccia e delle gambe. Impariamo i loro nomi:


**MEO**




**TOLLO**



**RUGO**




**POLDO**



**SPILLO**



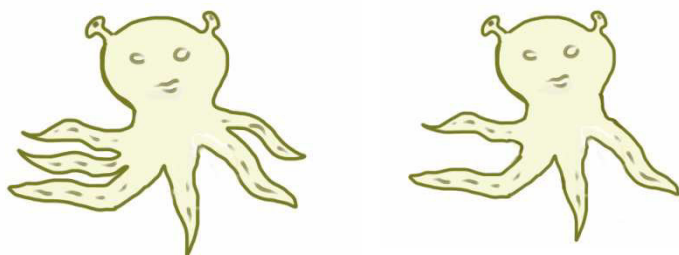
**COCCO**



Scrivi nel quadratino a fianco del nome, il numero dei tentacoli di ciascun mostriciattolo.

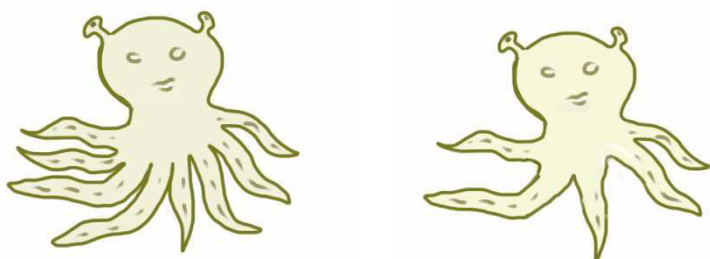
Colora in VERDE il quadratino del mostriciattolo che ha meno tentacoli di tutti e in ROSSO quelli che ne hanno di più.

RUGO e TOLLO si mettono vicini:



Quanti tentacoli hanno in tutto i due mostriciattoli?

Ora si mettono in coppia anche SPILLO e COCCO:




Quanti tentacoli hanno in tutto i due mostriciattoli?

**Confronta le due coppie di mostriciattoli.**

Quale coppia ha più tentacoli? .....

Spiega perché .....

Infine, ecco MEO e POLDO:



Fra tutte le coppie di mostriciattoli rappresentate nella pagina, quale coppia ha più tentacoli e quale di meno?

La coppia che ha più tentacoli è: .....

La coppia che ha il minor numero di tentacoli è: .....

Due mostriciattoli, insieme hanno 15 tentacoli. Come si chiamano i due mostriciattoli?

Due mostriciattoli insieme hanno il numero minore di tentacoli. Quali sono?  
Scrivi i nomi e spiega come hai fatto a scoprirli.

Tre mostriciattoli insieme hanno il **minor** numero di tentacoli. Quali mostriciattoli sono?

Scrivi i nomi e spiega come hai fatto a scoprirli.

Tre mostriciattoli insieme hanno il **maggior** numero di tentacoli. Quali mostriciattoli sono?

Scrivi i nomi e spiega come hai fatto a scoprirli.